

रोल नं.
Roll No.

--	--	--	--	--	--	--

परीक्षार्थी कोड को उत्तर-पुस्तिका के मुख-पृष्ठ पर अवश्य लिखें ।

Candidates must write the Code on the title page of the answer-book.

- कृपया जाँच कर लें कि इस प्रश्न-पत्र में मुद्रित पृष्ठ 8 + 2 मानचित्र हैं ।
- प्रश्न-पत्र में दाहिने हाथ की ओर दिए गए कोड नम्बर को छात्र उत्तर-पुस्तिका के मुख-पृष्ठ पर लिखें ।
- कृपया जाँच कर लें कि इस प्रश्न-पत्र में 30 प्रश्न हैं ।
- कृपया प्रश्न का उत्तर लिखना शुरू करने से पहले, प्रश्न का क्रमांक अवश्य लिखें ।
- इस प्रश्न-पत्र को पढ़ने के लिए 15 मिनट का समय दिया गया है । प्रश्न-पत्र का वितरण पूर्वाह्न में 10.15 बजे किया जाएगा । 10.15 बजे से 10.30 बजे तक छात्र केवल प्रश्न-पत्र को पढ़ेंगे और इस अवधि के दौरान वे उत्तर-पुस्तिका पर कोई उत्तर नहीं लिखेंगे ।
- Please check that this question paper contains 8 printed pages + 2 Maps.
- Code number given on the right hand side of the question paper should be written on the title page of the answer-book by the candidate.
- Please check that this question paper contains 30 questions.
- **Please write down the Serial Number of the question before attempting it.**
- 15 minute time has been allotted to read this question paper. The question paper will be distributed at 10.15 a.m. From 10.15 a.m. to 10.30 a.m., the students will read the question paper only and will not write any answer on the answer-book during this period.

संकलित परीक्षा – II

SUMMATIVE ASSESSMENT – II

सामाजिक विज्ञान

SOCIAL SCIENCE

निर्धारित समय : 3 घण्टे

Time allowed : 3 hours

अधिकतम अंक : 90

Maximum Marks : 90

32/2

1

P.T.O.



सामान्य निर्देश :

- (i) इस प्रश्न-पत्र में कुल **30** प्रश्न हैं । सभी प्रश्न **अनिवार्य** हैं ।
- (ii) प्रत्येक प्रश्न के अंक उसके सामने दिए गए हैं ।
- (iii) प्रश्न संख्या **1** से **8** तक अति लघु-उत्तरीय प्रश्न हैं । प्रत्येक प्रश्न **1** अंक का है । इनमें से प्रत्येक प्रश्न का उत्तर **30** शब्दों से अधिक का नहीं होना चाहिए ।
- (iv) प्रश्न संख्या **9** से **20** तक प्रत्येक प्रश्न **3** अंक का है । इनमें से प्रत्येक प्रश्न का उत्तर **80** शब्दों से अधिक का नहीं होना चाहिए ।
- (v) प्रश्न संख्या **21** से **28** तक प्रत्येक प्रश्न **5** अंक का है । इनमें से प्रत्येक प्रश्न का उत्तर **120** शब्दों से अधिक का नहीं होना चाहिए ।
- (vi) प्रश्न संख्या **29** और **30** इतिहास और भूगोल के मानचित्र संबंधी प्रश्न **3-3** अंक के हैं । इन्हें पूरा करने के बाद, मानचित्रों को उत्तर-पुस्तिका के अंदर नत्थी कर दीजिए ।

General Instructions :

- (i) *The question paper has **30** questions in all. All questions are **compulsory**.*
- (ii) *Marks are indicated against each question.*
- (iii) *Questions from serial number **1** to **8** are Very Short Answer Questions. Each question carries **1** mark. Answers to these questions should not exceed **30** words each.*
- (iv) *Questions from serial number **9** to **20** are **3** marks questions. Answers to these questions should not exceed **80** words each.*
- (v) *Questions from serial number **21** to **28** are **5** marks questions. Answers to these questions should not exceed **120** words each.*
- (vi) *Question numbers **29** and **30** are map questions of **3** marks each from History and Geography both. After completion, attach the maps inside your answer-book.*



1. 'बेगार' का क्या अर्थ है ? 1
What is the meaning of 'Begar' ?
2. भारत में पाए जाने वाले सर्वोत्तम प्रकार के लौह-अयस्क का नाम लिखिए । 1
Name the best variety of iron-ore found in India.
3. सम्पूर्ण विश्व में लोकतंत्र के प्रति ज़बरदस्त समर्थन का भाव क्यों है ? एक कारण स्पष्ट कीजिए । 1
Why is there an overwhelming support to democracy all over the world ? Explain one reason.
4. मुद्रा के प्रयोग ने वस्तु विनिमय को किस प्रकार आसान बना दिया ? एक उदाहरण दीजिए । 1
How does the use of money make it easier to exchange things ? Give an example.
5. पैकेटों पर अंकित अधिकतम खुदरा मूल्य आपके लिए किस प्रकार लाभकारी है ? 1
How is the maximum retail price printed on packets beneficial for you ?
6. उपभोक्ता के चुनने के अधिकार के उल्लंघन का एक उदाहरण दीजिए । 1
Give an example of violation of consumer's right to choose.
7. लोकतंत्र के अर्थ को स्पष्ट कीजिए । 1
Explain the meaning of democracy.
8. भारत के किसी एक राजनीतिक दल का नाम लिखिए जिसका जन्म आंदोलन से हुआ हो । 1
Name any one political party of India which grew out of a movement.
9. दबाव-समूह और आंदोलन किस प्रकार लोकतंत्र को मज़बूत करते हैं ? स्पष्ट कीजिए । 3×1=3
How do pressure groups and movements strengthen democracy ? Explain.
10. भारत में बैंकों की किन्हीं तीन ऋण संबंधी गतिविधियों को स्पष्ट कीजिए । 3×1=3
Explain any three loan activities of banks in India.



11. उपभोक्ता सुरक्षा अधिनियम (कोपरा), 1986 के अंतर्गत उपभोक्ता विवादों के निपटारे के लिए त्रि-स्तरीय न्यायिक तंत्र के महत्त्व का विश्लेषण कीजिए । 3

Analyse the importance of the three-tier judicial machinery under Consumer Protection Act (COPRA), 1986 for redressal of consumer disputes.

12. बहुराष्ट्रीय कंपनियाँ किस प्रकार विश्व-भर के उत्पादन को एक-दूसरे के साथ जोड़ती हैं ? उदाहरणों सहित स्पष्ट कीजिए । 3×1=3

How do Multi-National Corporations (MNCs) interlink production across countries ? Explain with examples.

13. हम भारत में लोहा और इस्पात के उत्पादन में अपने पूर्ण संभाव्य का विकास क्यों नहीं कर पाए हैं ? कोई तीन कारण स्पष्ट कीजिए । 3×1=3

Why are we not able to perform to our full potential in the production of iron and steel in India ? Explain any three reasons.

14. “पिछले तीन दशकों में भारत में पर्यटन उद्योग ने महत्त्वपूर्ण वृद्धि की है ।” कथन की पुष्टि कीजिए । 3×1=3

“Tourism industry in India has grown substantially over the last three decades.” Support the statement.

15. लोकतंत्र में सामाजिक विविधता को किस प्रकार समायोजित किया जाता है ? उदाहरणों सहित स्पष्ट कीजिए । 3×1=3

How is social diversity accommodated in democracy ? Explain with examples.

16. भारत में दुर्ग-बस्तर-चंद्रपुर लौह-अयस्क पेट्टी की किन्हीं तीन विशेषताओं का वर्णन कीजिए । 3×1=3

Describe any three characteristics of the Durg-Bastar-Chandrapur Iron-ore belt in India.



17. लोकतांत्रिक व्यवस्था से किन मूल्यों के आधार पर यह उम्मीद करना उचित है कि वह सद्भावपूर्ण सामाजिक जीवन उपलब्ध कराएगी ? स्पष्ट कीजिए । 3×1=3

On the basis of which values will it be a fair expectation that democracy should produce a harmonious social life ? Explain.

18. 'सविनय अवज्ञा आंदोलन' में व्यवसायी वर्गों की भूमिका का मूल्यांकन कीजिए । 3

Evaluate the role of business classes in the 'Civil Disobedience Movement'.

19. फरवरी, 1922 में गांधीजी ने 'असहयोग आंदोलन' को वापस लेने का निर्णय क्यों किया ? कोई तीन कारण स्पष्ट कीजिए । 3×1=3

Why did Gandhiji decide to withdraw the 'Non-Cooperation Movement' in February, 1922 ? Explain any three reasons.

20. 1830 के दशक में यूरोप में आई किन्हीं तीन आर्थिक कठिनाइयों का वर्णन कीजिए । 3×1=3

अथवा

शिक्षा के क्षेत्र में फ्रांसीसियों को वियतनाम में आई किन्हीं तीन समस्याओं का वर्णन कीजिए ।
Describe any three economic hardships faced by Europe in the 1830s.

OR

Describe any three problems faced by the French in the sphere of education in Vietnam.

21. भारतीय अर्थव्यवस्था पर वैश्वीकरण के किन्हीं पाँच सकारात्मक प्रभावों का विश्लेषण कीजिए । 5×1=5

Analyse any five positive effects of globalisation on the Indian economy.

22. स्वतंत्रता आंदोलन के दौरान सामूहिक अपनेपन की भावना को कैसे विकसित किया गया ? स्पष्ट कीजिए । 5×1=5

How was the sense of collective belonging developed during the freedom movement ? Explain.



23. “किसी देश के अंतर्राष्ट्रीय व्यापार की प्रगति उसके आर्थिक विकास का सूचक है ।” इस कथन को न्यायसंगत ठहराइए । 1+4=5

“The advancement of international trade of a country is an index of its economic development.” Justify the statement.

24. “राष्ट्रवाद की पहली स्पष्ट अभिव्यक्ति 1789 में ‘फ्रांसीसी क्रांति’ के साथ हुई ।” कथन की परख कीजिए । 5×1=5

अथवा

उन कारणों की परख कीजिए जिन्होंने अमेरिका को वियतनाम के विरुद्ध युद्ध से हटने के लिए मजबूर किया ।

“The first clear expression of nationalism came with the ‘French Revolution’ in 1789.” Examine the statement.

OR

Examine the reasons that forced America to withdraw from the Vietnam war.

25. उदारीकरण किसे कहते हैं ? भारतीय अर्थव्यवस्था पर उदारीकरण के किन्हीं चार प्रभावों का वर्णन कीजिए । 1+4=5

What is liberalisation ? Describe any four effects of liberalisation on the Indian economy.

26. राजनीतिक दलों के सुधार के लिए कोई पाँच प्रभावी उपाय सुझाइए । 5×1=5
Suggest any five effective measures to reform political parties.

27. लोकतंत्र की किन्हीं पाँच विशेषताओं का वर्णन कीजिए । 5×1=5
Describe any five characteristics of democracy.

28. भारतीय अर्थव्यवस्था में रसायन उद्योगों की भूमिका का विश्लेषण कीजिए । 5×1=5
Analyse the role of chemical industries in the Indian economy.



29. तीन लक्षण A, B और C, भारत के दिए गए राजनीतिक रेखा-मानचित्र (पृष्ठ 9 पर), में अंकित किए गए हैं। इन लक्षणों को निम्नलिखित जानकारी की सहायता से पहचानिए और उनके सही नाम, मानचित्र पर खींची गई रेखाओं पर लिखिए : 3×1=3

- A. वह शहर जो जलियाँवाला बाग की घटना से संबद्ध है।
- B. वह स्थान जहाँ भारतीय राष्ट्रीय कांग्रेस का अधिवेशन हुआ था।
- C. वह स्थान जहाँ गाँधीजी ने नमक क़ानून तोड़ा था।

Three features A, B and C are marked on the given political outline map of **India** (on page 9). Identify these features with the help of the following information and write their correct names on the lines marked on the map :

- A. The city associated with the Jallianwala Bagh incident.
- B. The place where the Indian National Congress session was held.
- C. The place where Gandhiji violated the Salt Law.

नोट : निम्नलिखित प्रश्न केवल दृष्टिबाधित परीक्षार्थियों के लिए प्रश्न संख्या 29 के स्थान पर हैं :

Note : The following questions are for the **Visually Impaired Candidates** only, in lieu of Q. No. 29 :

- (29.1) जलियाँवाला बाग की घटना से संबंधित शहर का नाम लिखिए।
- (29.2) उस राज्य का नाम लिखिए जहाँ नील की खेती करने वालों ने सत्याग्रह किया था।
- (29.3) उस स्थान का नाम लिखिए जहाँ गाँधीजी ने नमक क़ानून तोड़ा था। 3×1=3
- (29.1) Name the city related to Jallianwala Bagh incident.
- (29.2) Name the State where the Indigo planters organised Satyagraha.
- (29.3) Name the place where Gandhiji violated the Salt Law.



30. भारत के दिए गए राजनीतिक रेखा-मानचित्र (पृष्ठ 11 पर) में निम्नलिखित को उपयुक्त चिह्नों से दर्शाइए और उनके नाम लिखिए : 3×1=3
- A. नरोरा – आण्विक ऊर्जा संयंत्र
B. तूतीकोरिन – प्रमुख समुद्री पत्तन
C. भिलाई – लोहा और इस्पात संयंत्र

On the given political outline map of **India** (on page 11) locate and label the following features with appropriate symbols :

- A. Naraura – Nuclear Power Plant
B. Tuticorin – Major Sea Port
C. Bhilai – Iron and Steel Plant

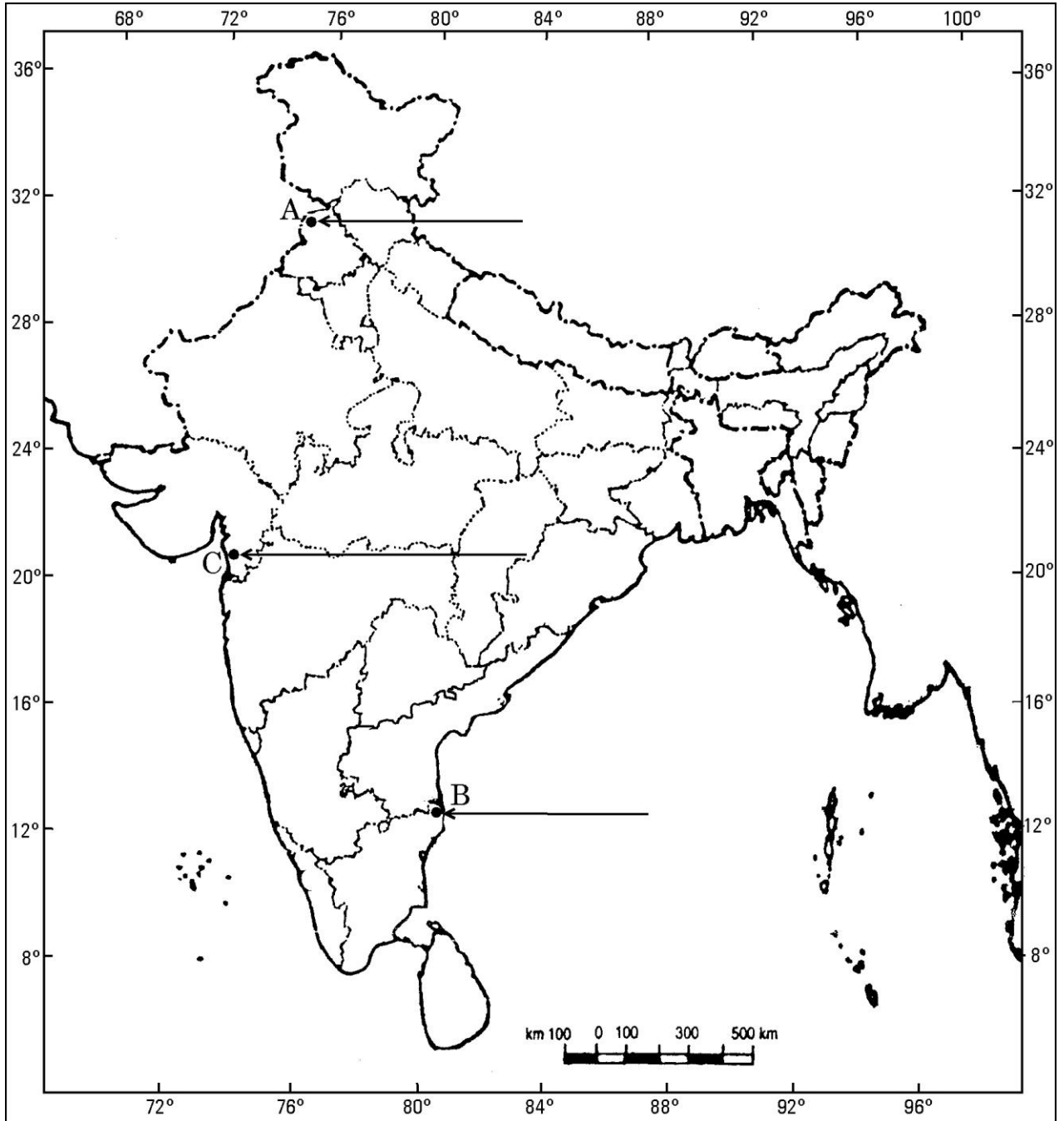
नोट : निम्नलिखित प्रश्न केवल दृष्टिबाधित परीक्षार्थियों के लिए प्रश्न संख्या 30 के स्थान पर हैं :

Note : The following questions are for the **Visually Impaired Candidates** only, in lieu of Q. No. 30 :

- (30.1) उस राज्य का नाम लिखिए जहाँ नरोरा आण्विक ऊर्जा संयंत्र स्थित है ।
(30.2) उस राज्य का नाम लिखिए जहाँ तूतीकोरिन समुद्री पत्तन स्थित है ।
(30.3) भिलाई लोहा और इस्पात संयंत्र किस राज्य में स्थित है ? 3×1=3
- (30.1) Name the State where Naraura Nuclear Power Plant is located.
(30.2) Name the State where Tuticorin Sea Port is located.
(30.3) In which State is the Bhilai Iron and Steel Plant located ?



भारत का रेखा-मानचित्र (राजनीतिक)
Outline Map of India (Political)



Get More Learning Materials Here :

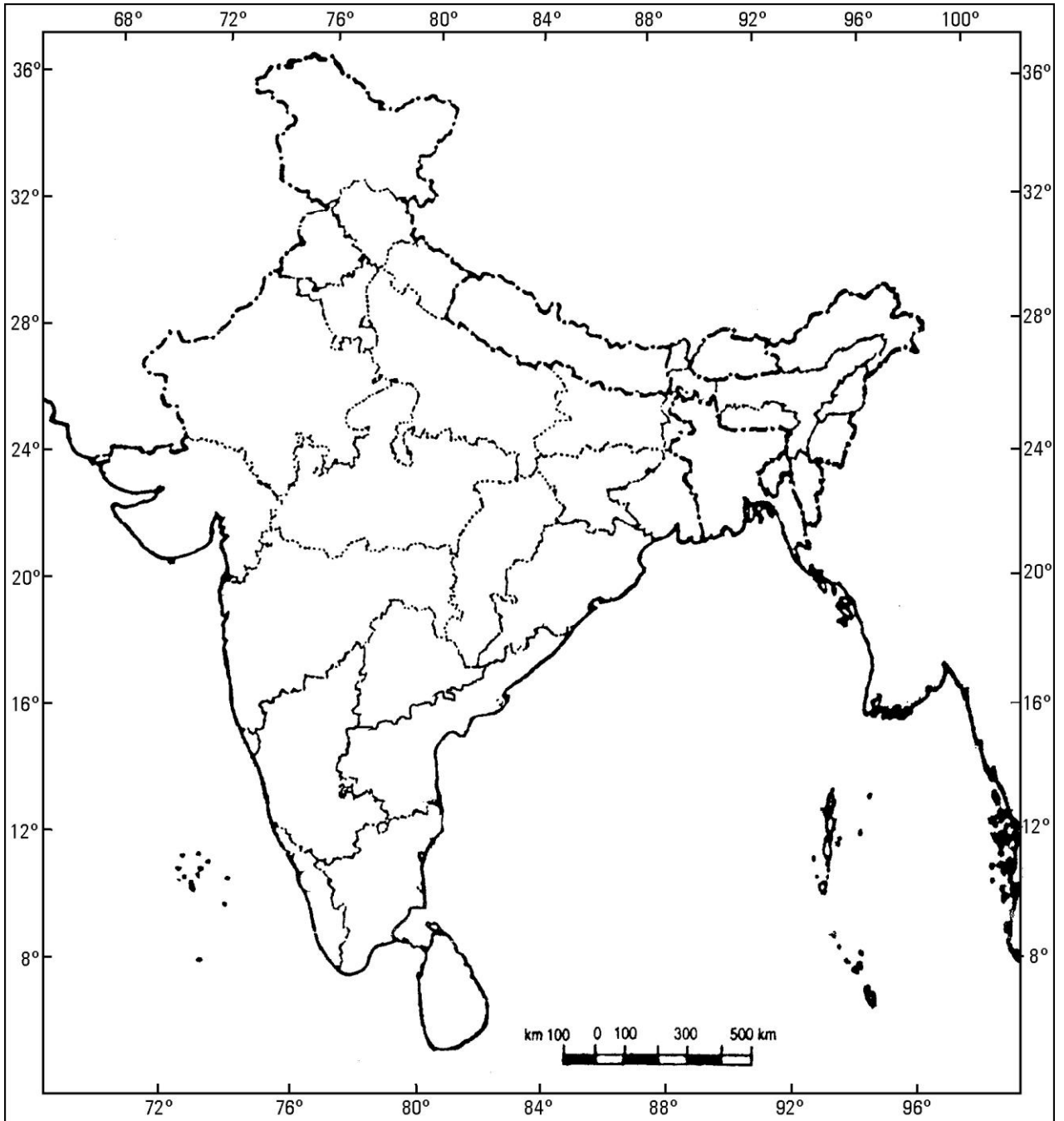


CLICK HERE



www.studentbro.in

भारत का रेखा-मानचित्र (राजनीतिक)
Outline Map of India (Political)



MARKING SCHEME

SOCIAL SCIENCE (OUTSIDE DELHI)

SECONDARY SCHOOL EXAMINATION

SA-II EXAMINATION

MARCH 2017

Series: HRK

CODE NO. 32/1, 32/2, 32/3

SET-2

Q.NO.	EXPECTED ANSWERS/ VALUE POINTS	Page No	MARK
1	<p>Meaning of Beggar : Labour that villager was forced to contribute without any payment.</p>	H-59	1
2	<p>Best variety of Iron Ore in India : Magnetite</p>	G-52	1
3	<p>There is over overwhelming support to democracy all over the world : Because it is accountable, responsive and legitimate government.</p>	DP -91	1
4	<p>A person holding money can easily exchange it for any commodity or service that he or she might want. Example: - The shoe manufacturer will first exchange shoes that he has produced for money and then exchange the money for wheat. Any other relevant example.</p>	E -39	1
5	<p>Maximum retail price (MRP) printed on packets is beneficial for us:</p> <p>i. The seller cannot sell more than the printed price (MRP). ii. We can bargain with the seller to sell at less cost than MRP. (Any one point to be given)</p>	E-80	1
6	<p>Example of violation of consumer's right to choose is: If you want to buy toothpaste and the shop owner says that she/he can sell the toothpaste only if you buy a toothbrush. If you are not interested in buying the brush your <u>right to choice is denied</u>. Any other relevant example can be given.</p>	E-81	1



7	Democracy is a form of government in which the rulers are elected by the people.	DP-111	1
8	<p>Political party in India which grew out of a movement is :</p> <ol style="list-style-type: none"> 1. Asom Gana Parishad 2. DMK (Dravida Munnetra kazhagam) 3. AIADMK (All India Anna Dravida Munnetra Kazhagam) 4. AAP (Aam Admi Party) 5. Any other relevant party. <p>(Any one party to be named)</p>	DP - 67,82	1
9	<p>Pressure groups and movements strengthens democracy :</p> <ol style="list-style-type: none"> i. They try to gain public support and sympathy for their goals and their activities by carry out information campaigns, organising meetings , filing petitions etc. ii. They often organize protest activities like strike etc. iii. Sometimes the pressure groups are either formed or led by the leaders of political parties or act as extended arms of political parties. iv. Sometimes political parties grow out of movements. v. Any other relevant point. <p>(Any three points to be explained)</p>	DP-66 , 67	3x1=
10	<p>Loan activities of Banks in India:</p> <ol style="list-style-type: none"> i. Banks use the major portion of the deposits to extend loans. ii. Banks make use of the deposits to meet the loan requirements of the people. iii. Banks mediate between those who have surplus funds (the depositors) and those who are in need of these funds (the borrowers). iv. Banks charge a higher interest rate on loans than what it offers on deposits. v. Any other relevant point. <p>(Any three points to be explained)</p>	E-42	3x1=



11	<p>Importance of the three –tier Quasi judicial machinery under Consumer Protection Act (COPRA)</p> <ol style="list-style-type: none"> i. Under COPRA three tier Quasi –Judicial machinery at district, state and National level set up. ii. The district level court deals with the cases involving claims upto 20 lakhs. iii. The state level courts deals with between 20 lakhs to one crore. iv. The national level court deals with cases involving claims exceeding one crore. <p>(To be assessed as whole)</p>	E-84	3x1=
12	<p>Multi –National Corporations(MNCs) interlink production across countries:</p> <ol style="list-style-type: none"> i. There are varieties of ways in which the MNCs are spreading their production and interacting with local producers in various countries across the globe. ii. By setting up partnership with local companies by using the local companies for supplies, by closely competing with the local companies or buying them. iii. MNCs are exerting a strong influence on production at the distant locations. iv. As a result, production in these widely dispersed locations is getting interlinked. v. Example – Cargill Foods , Parakh Food vi. Any other relevant point. <p>(Any three points to be explained)</p>	E-58	3x1=
13	<p>We are not able to perform to our full potential in the production of iron and steel in India due to these three reasons:</p> <ol style="list-style-type: none"> i. High costs and limited availability of coking coal. ii. Lower productivity of labour. iii. Irregular supply of energy. iv. Poor infrastructure. <p>(Any three points to be explained)</p>	G-73-74	3x1=



14	<p>Tourism industry in India has grown substantially over the last three decades</p> <ol style="list-style-type: none"> i. Foreign tourism arrival in the country had seen an increase contributing Rs 21,828 crore of foreign exchange. ii. More than 15 million people are directly engaged in tourism industry. iii. Over 2.6 million foreign tourists visit India every year. iv. Tourism also promotes national integration and provides support to local handicrafts. <p>(Any three points to be explained)</p>	G-91,92	3x1=
15	<p>Social diversity is accommodated in democracy :</p> <ol style="list-style-type: none"> i. Democracy develops a mechanism which successfully negotiates difference among ethnic population. ii. They usually develop a procedure to conduct their competition. iii. It reduces the possibility of tensions of becoming explosive or violent. iv. It has the ability to social differences, divisions and conflicts. v. Any other relevant point. <p>(Any three points to be explained with examples.)</p>	DP-96	3x1=
16	<p>Characteristics of Durg-Bastar –Chandrapur Iron-ore belt in India :</p> <ol style="list-style-type: none"> i. The region lies in Chhattisgarh and Maharashtra. ii. Very high grade hematite ores are found in the famous Bailadila ranges of hills in the Bastar district. iii. The range of hills comprises of 14 deposits of super high grade hematite iron ore. iv. It has the best physical properties needed for steel making. v. Iron ore from these mines is exported to Japan and South Korea via Vishakhapatnam port. vi. Any other relevant point. <p>(Any three points to be explained)</p>	G-53	3x1=



17	<p>The values that are associated with democracy producing a harmonious social life are :</p> <ol style="list-style-type: none"> i. Equality among all human beings. ii. Respect for individual freedom. iii. Democracies accommodate various social divisions. iv. Democracies reduce the possibility of tensions becoming explosive or violent. v. Ability to handle social differences, divisions and conflicts. vi. Any other relevant point. <p>(Any three values to be explained.)</p>	DP-96	3x1=
18	<p>Role of business classes in the ‘Civil Disobedience Movement’ :</p> <ol style="list-style-type: none"> i. The business classes reacted against colonial policies that restricted business activities. ii. They wanted protection against imports of foreign goods and a rupee-sterling foreign exchange ratio that would discourage imports. iii. In order to organise business interest they formed the Indian Industrial and Commercial Congress in 1920 and the Federation of the Indian Chamber of Commerce and Industries (FICCI) in 1927. iv. They gave financial assistance for the movement. v. They refused to buy and sell imported goods. vi. Any other relevant point. <p>(Any three points to be explained)</p>	H-66	3x1=
19	<p>Gandhiji decided to withdraw the ‘Non- Cooperation Movement’:</p> <ol style="list-style-type: none"> i. Gandhiji felt that the movement was turning violent in many places. ii. Satyagrahis needed to be properly trained. iii. Within the Congress some leaders were by now tired of mass struggles and wanted to participate in elections. iv. Chauri Chaura incident led to immediate withdrawal. v. Any other relevant point. <p>(Any three points to be explained)</p>	H-62	3x1=



20	<p>Economic hardships faced by Europe in the 1830s :</p> <ol style="list-style-type: none"> i. Enormous increase in population was seen all over Europe. ii. In most countries there were more seekers of jobs than employment. iii. Population from rural areas migrated to the cities to live in overcrowded slums. iv. Small producers in towns were often faced with stiff competition from imports of cheap machine made goods from England. v. In Europe where the aristocracy still enjoyed power, peasants struggled under the burden of feudal dues and obligations. vi. The rise of food prices as a result of bad harvest led to wide spread pauperism in town and country. vii. Any other relevant point. <p>(Any three points to be described)</p> <p style="text-align: center;">OR</p> <p>Problems faced by the French in the sphere of education in Vietnam:</p> <ol style="list-style-type: none"> i. The elites in Vietnam were powerfully influenced by Chinese culture. ii. To consolidate their power, the French had to counter the Chinese influence. So they systematically dismantled the traditional system and established French schools for the Vietnamese. iii. Chinese language used by the elites so far, had to be replaced. iv. There were two broad opinions. Some policy makers emphasized the need to use the French language as the medium of instruction whereas others suggested Vietnamese to be taught in lower classes and French in higher classes. v. Any other relevant point. <p>(Any three points to be described)</p>	H-15	3x1=
21	<p>Positive effects of Globalization :</p> <ol style="list-style-type: none"> i. Globalization has brought greater competition among producers – both local and foreign producers has been of advantage to consumers particularly the well-off sections in the urban areas. ii. There is greater choice before consumers. They enjoy improve quality at 	H-34	3x1=



	<ul style="list-style-type: none"> iii. People today, enjoy much higher standards of living. iv. Local companies supplying raw material have prospered. v. The top Indian companies have been able to benefit from increased competition. vi. Some Indian companies have gained from successful collaboration with foreign companies. vii. MNCs have increased their investments in India over the past 20 years, especially in cell phones, automobiles, electronics, soft drinks etc. viii. Many Indian companies have emerged as Multi Nationals themselves. Example- Tata Motors, Infosys, Ranbaxy, Asian Paints etc. ix. Globalization has created opportunities for new jobs. x. Any other relevant point. <p>(Any five points to be analyzed)</p>	E-66,67	5x1=
22	<p>Sense of collective belonging was developed during the freedom movement:</p> <ul style="list-style-type: none"> i. It came partly through the experience of united struggles. ii. Variety of cultural process through which nationalism captured people's imagination. iii. History and fiction, folk lore and songs, popular prints and symbols all played a part in the making of nationalism. iv. The identity of the nation was symbolized in a figure image 'Bharat Mata'. v. Vande Matram was widely sung during the Swadesh movement in Bengal. vi. Icons and symbols helped in unifying people and inspiring in them a feeling of nationalism. vii. Ideas of nationalism also developed through a movement to revive Indian folk lore. viii. Folk tales were sung by bards in the villages to give a true picture of traditional culture. ix. Re interpretation of history created a feeling of nationalism. x. The nationalist histories urged the readers to take pride in Indian great achievement in the past and struggle to change the miserable conditions of life under British rule. xi. Any other relevant point. <p>(Any five points to be explained.)</p>	H-70 -72	5x1=



23	<p>‘The advancement of international trade of a country is an index of its economic development :</p> <ol style="list-style-type: none"> i. It is considered as the economic barometer of a country. ii. As the resources are space bound no country can survive without international trade. iii. A favourable balance of trade of a country indicates economic development. iv. International trade helps in exchange of surplus goods with those of deficit countries. v. Exchange of commodities and goods have been superseded by the exchange of information and knowledge. vi. Any other relevant point. <p>(Any five points to be justified.)</p> <p>● Marking is given as 1+4 but has to be considered as 5x1=5</p>	G-90,91	5x1=
24	<p>“The first clear expression of Nationalism came with the ‘French Revolution’ in 1789” :</p> <ol style="list-style-type: none"> i. The political and constitutional changes that came in the wake of the French revolution led to the transfer of sovereignty from the monarchy to a body of French citizens. ii. Sense of collective belonging with La Patrie (the fatherland) and Le Citoyen (the citizen). iii. Formation of National Assembly. iv. Hymns were composed and oaths were taken. v. Centralised and uniform laws were introduced. vi. Internal customs duties and dues were abolished and a uniform system of weights and measure were adopted. vii. French became the common language of the nation. viii. With the outbreak of the revolutionary wars, the French armies began to carry the idea of nationalism abroad. ix. Any other relevant point. <p>(Any three points to be examined)</p>	H-5	5x1=



	<p>Reasons that forced America to withdraw from the Vietnam War:</p> <ol style="list-style-type: none"> i. The prolongation of the war created strong reaction even with the U.S. ii. It was clear that the US had failed to achieve its objectives. iii. The Vietnamese resistance had not been crushed; The support of the Vietnamese people for US action had not been won. iv. Thousands of young US soldiers had lost their lives. v. The widespread questioning of the government policy strengthened moves to negotiate an end to the war. vi. US media and films played a major role in both supporting as well as criticizing the war. vii. Any other relevant point. <p>(Any five points to be examined)</p>	H-51	5x1=
25	<p>Liberalization means:</p> <p>Removing barriers or restrictions set by the government is known as liberlisation:</p> <p>Impacts of Liberalization :</p> <ol style="list-style-type: none"> i. Competition would improve the performance of producers within the country. ii. Barriers on foreign trade and foreign investment were removed to a large extent. This meant that goods could be imported and exported easily. iii. Foreign companies could set up factories and offices to boost up production. iv. It allows making decisions freely. v. The competition would improve the performance of producers within the country since they have to improve their quality. vi. Any other relevant point. <p>(Any four effects to be described)</p>	E-64	1+4=
26	<p>Effective Measures to reform political parties :</p> <ol style="list-style-type: none"> i. A law should be made to regulate the internal affairs of political parties. ii. It should be made compulsory for political parties to maintain a register of 		



	<ul style="list-style-type: none"> iii. It should be made mandatory for political parties to give a minimum number of tickets , about 1/3 to women candidate. iv. There should be state funding of elections. It can be given in kind : petrol , paper, telephone etc. v. It should be mandatory to hold their organizational elections. vi. People can put pressure on political parties through petitions , publicity and agitation. vii. Parties should reduce the influence of money and criminals. viii. The parties should select candidates for contesting elections who have good record. ix. Any other relevant point. <p>(Any five effective measures to be given.)</p>	DP -86	5x1=
27	<p>Characteristics of Democracy :</p> <ul style="list-style-type: none"> i. Promotes equality among citizens. ii. Enhances the dignity of the individual. iii. Improve the quality of decision making. iv. Provides a method to resolve conflicts. v. Allows room to correct mistakes. vi. Any other relevant point. <p>(Any five points to be explained)</p>	DP-90	5x1=
28	<p>Role of chemical industries in the Indian Economy :</p> <ul style="list-style-type: none"> i. It contributes approximately 3 % of the GDP. ii. It is the 3rd largest in Asia and occupies the 12th place in the world. iii. It compromises both large and small scale manufacturing units. iv. Rapid growth has been recorded in both inorganic and organic sector. v. Organic chemicals include petrochemicals which are used for manufacturing of synthetic fibers, rubber, plastics, and dye stuffs. 	G-75	



	<p>vi. Inorganic chemicals include sulphuric acid, fertilizers, synthetic fibers, plastics, adhesives, paints etc.</p> <p>vii. The chemical industry is its own largest consumer.</p> <p>viii. Any other relevant point.</p> <p>(Analyse any five points)</p>		5x1=
29	<p>See the attached filled Map.</p> <p>For the Visually Impaired Candidates only:</p> <p>29.1 - Amritsar</p> <p>29.2 - Bihar</p> <p>29.3 – Dandi</p>		3x1=
30	<p>See the attached filled Map.</p> <p>For the Visually Impaired Candidates only:</p> <p>30.1 - Uttar Pradesh</p> <p>30.2 - Tamil Nadu</p> <p>30.3 – Chattisgarh</p>		3x1=

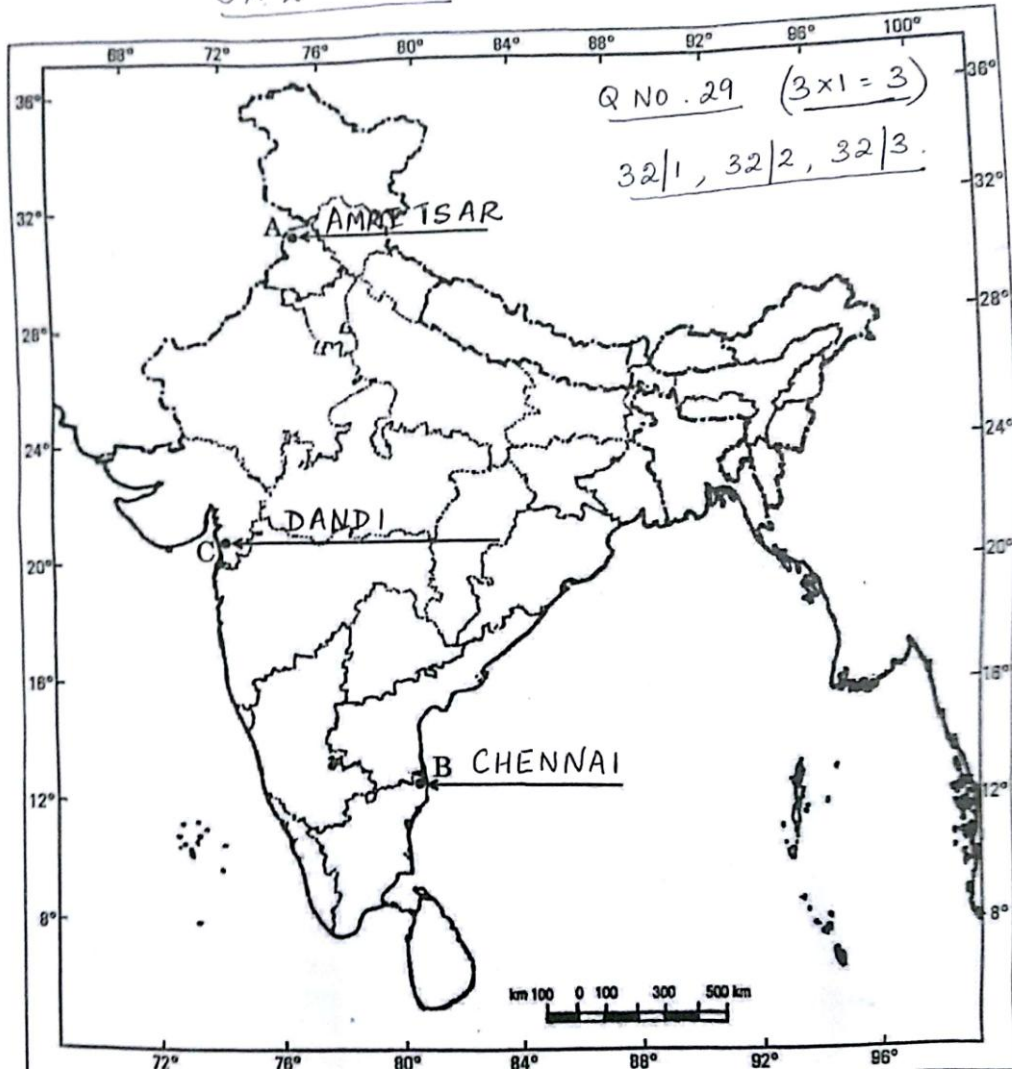


प्रश्न सं. 29 के लिए

For question no. 29

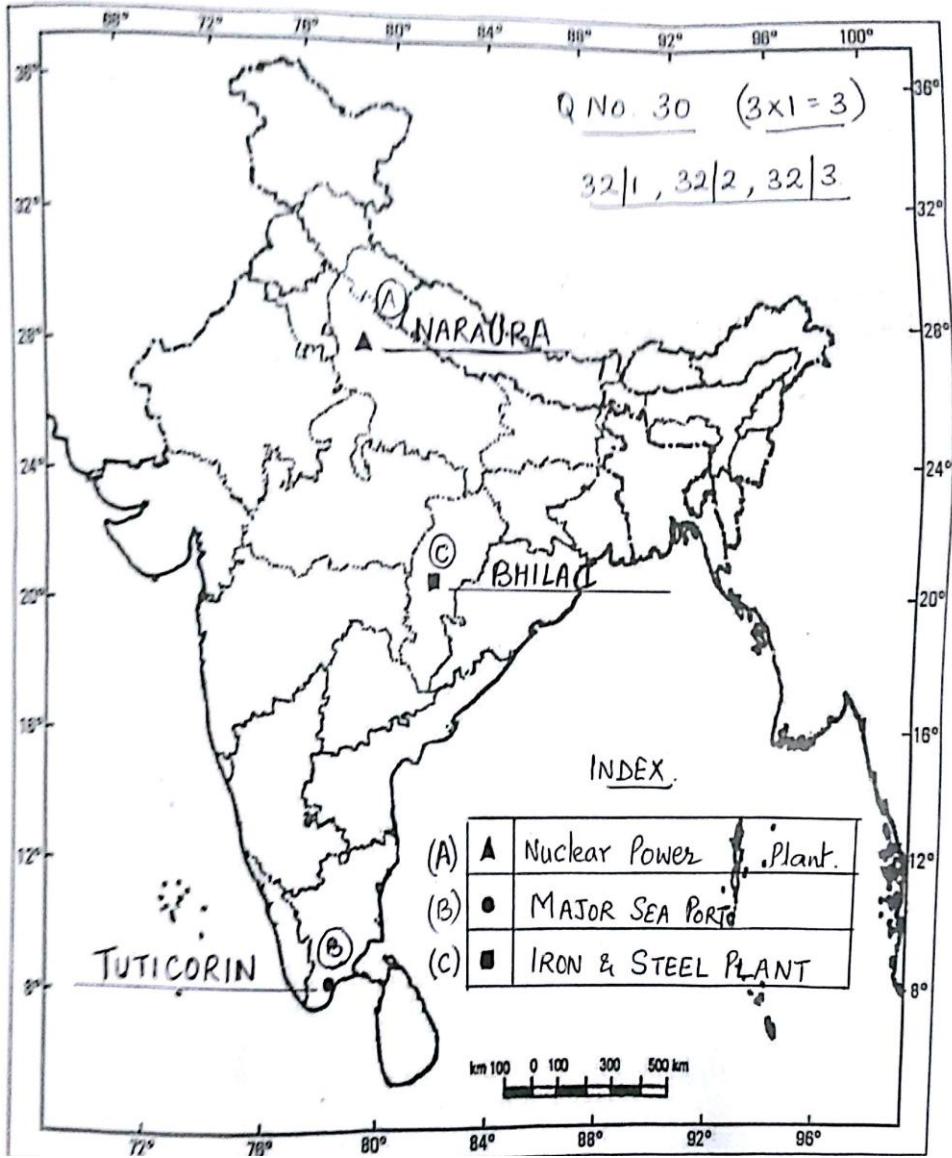
भारत का रेखा-मानचित्र (राजनीतिक)
Outline Map of India (Political)

SA 2 - 2017



भारत का रेखा-मानचित्र (राजनीतिक)
Outline Map of India (Political)

SA-2 - 2017



अंक योजना
सामाजिक विज्ञान (अखिल भारतीय)
सेकेन्डरी स्कूल परीक्षा मार्च 2017
संकलित परीक्षा-II
कोड़ 32/2

प्रश्न संख्या	संभावित उत्तर / मूल्य बिन्दु	अंक
1	बेगार का अर्थ – ग्रामीणों को बिना किसी परिश्रमिक के जबरन काम करवाना। इति. पृ. 591	1
2	भारत में सर्वोत्तम कोटि का लौह अयस्क – मैग्नाटाईट भू.पृ.-55	1
3	सम्पूर्ण विश्व में लोकतंत्र के प्रति जबरदस्त समर्थन का भाव है क्योंकि यह उत्तरदायी जिम्मेवार और वैध शासन है। लोक-931	1
4	जिस व्यक्ति के पास मुद्रा है, वह इसका विनिमय किसी भी वस्तु या सेवा खरीदने के लिए आसानी से कर सकता है। उदाहरण – जूता बनाने वाला पहले जूतों के बदले मुद्रा प्राप्त करेगा और फिर उस मुद्रा का इस्तेमाल गेहूँ खरीदने के लिए करेगा। कोई अन्य संबद्ध उदाहरण अर्थ0 39	1
5	8 पैकिटों पर अंकित अधिकतम खुदरा मूल्य हमारे लिए लाभकारी है :- (i) विक्रेता मुद्रित मूल्य से अधिक दाम पर वस्तु को नहीं बेच सकता है। (ii) हम अधिकतम खुदरा मूल्य से कम दाम पर वस्तु देने के लिए मोल भाव कर सकते हैं। (किसी एक बिंदु का उल्लेख उपेक्षित।) अर्थ0 80	1
6	उपभोक्ता के चुनने के अधिकारी के उल्लंघन का उदाहरण – यदि आप एक दंत मंजन खरीदना चाहते हैं और दुकानदार कहता है कि वह केवल दंतमंजन तभी बेचेगा जब आप दंतमंजन के साथ एक ब्रश भी खरीदेंगे। अगर आप ब्रश खरीदने के इच्छुक नहीं हैं, तब आपके चुनने के अधिकार उल्लंघन हुआ। कोई अन्य संबद्ध उदाहरण (एक उदाहरण की व्याख्या अपेक्षित।) अर्थ0 80	1
7	'लोकतंत्र शासन का वह स्वरूप है जिसमें लोग अपने शासकों का चुनाव स्वयं करते हैं।' लोक0 111	1
8	भारत के राजनीतिक दल जिनका जन्म आंदोलन से हुआ :-	



	<p>(I) असम गण परिषद (II) डी.एम.के. (द्रविड मुनेत्र कडगम) (III) ए.आई.ए.डी.एम.के. (ऑल इंडिया अन्ना डी.एम.के.) (IV) आप (आम आदमी पार्टी) (किसी एक दल का नाम उल्लेख)</p> <p>लोक0 67,82</p>	1
9	<p>दबाव-समूह और आंदोलन लोकतंत्र को मजबूत करते हैं :- दबाव-समूह और आंदोलन अपने लक्ष्य तथा गतिविधियों के लिए जनता का समर्थन और सहानुभूति हासिल करने की कोशिश करते हैं। इसके लिए सूचना अभियान चलाना, बैठक आयोजित करना अथवा अर्जी दायर करने जैसे तरीकों का सहारा लिया जाता है। (ii) ऐसे समूह अक्सर हड़ताल अथवा सरकारी कामकाज में बाधा पहुंचाने जैसे उपायों का सहारा लेते हैं। कुछ मामलों में दबाव-समूह दलों द्वारा ही बनाए गए होते हैं अथवा उनका नेतृत्व राजनीतिक दल के नेता करते हैं। कुद दबाव-समूह राजनीतिक दल की एक शाखा के रूप में काम करते हैं। (iv) कभी-कभी आंदोलन राजनीतिक दल का रूप अख्तियार कर लेते हैं। (v) कोई अन्य संबद्ध बिंदु। (किन्हीं तीन बिंदुओं का विश्लेषण अपेक्षित।)</p> <p>लोक0 66,67</p>	3x1=3
10	<p>भारत में बैंकों की ऋण संबंधी गतिविधियां : (i) बैंक जमा राशि के एक बड़े भाग को ऋण देने के लिए इस्तेमाल करते हैं। (ii) बैंक जमा राशि का लोगों की ऋण संबंधी आवश्यकताओं को पूरा करने के लिए इस्तेमाल करते हैं। (iii) बैंक जिनके पास अतिरिक्त राशि है (जमाकर्ता) एवं जिन्हें राशि की जरूरत है (कर्जदार) के बीच मध्यस्थता का काम करते हैं। (iv) बैंक जमा पर जो ब्याज देते हैं उससे ज्यादा ऋण पर लेते हैं। (v) कोई अन्य संबद्ध बिंदु। (किन्हीं तीन बिंदुओं का विश्लेषण अपेक्षित।)</p> <p>अर्थ0 42</p>	3x1=3
11	<p>उपभोक्ता सुरक्षा अधिनियम (कोपरा) के अंतर्गत त्रि-स्तरीय न्यायिक तंत्र :- (i) कोपरा के अंतर्गत देश, राज्य और जिला स्तर पर त्रि-स्तरीय न्यायिकतंत्र स्थापित किया गया है। (ii) जिला स्तर का न्यायालय 20 लाख तक के दावों से संबंधित मुकदमां पर विचार करता है। (iii) राज्य स्तरीय अदालतें 20 लाख से 1 करोड़ तक। (iv) राष्ट्रीय स्तर की अदालतें एक करोड़ से ऊपर की दावेदारी से संबंधित मुकदमों देखती हैं।</p> <p>अर्थ 84</p>	3x1=3

12	<p>19 बहुराष्ट्रीय कंपनियों विश्वभर के उत्पादों को एक दूसरे के साथ जोड़ती हैं –</p> <p>(i) बहुराष्ट्रीय कंपनियों कई तरह से अपने उत्पादक कार्य का प्रसार कर रही हैं। (ii) विश्व के कई देशों की स्थानीय कंपनियों के साथ पारस्परिक संबंध स्थापित कर रही हैं। स्थानीय कंपनियों के साथ साझेदारी द्वारा आपूर्ति के लिए स्थानीय कंपनियों से निकट प्रतिस्पर्धा करके अथवा उन्हें खरीदकर। (iii) बहुराष्ट्रीय कंपनियों दूरस्थ स्थानों के उत्पादन पर अपना प्रभाव जमा रही हैं। (iv) परिणामतः दूर-दूर स्थानों पर फैला उत्पादन परस्पर संबंधित हो रहा है। (v) उदाहरण कारगिल फूड्स, प्रकाश फूड्स कोई अन्य संबंध बिंदु (किन्हीं तीन बिंदुओं का विश्लेषण अपेक्षित।</p> <p style="text-align: right;">अर्थ 58</p>	3x1=3
13	<p>हम भारत में लोहा और इस्पात उत्पादन में अपने पूर्ण संभाव्य का विकास नहीं कर पाए –</p> <p>(i) उच्च लागत तथा कोकिंग कोयले की सीमित उपलब्धता (ii) कम श्रमिक उत्पादकता (iii) ऊर्जा की अनियमित पूर्ति (iv) अविकसित अवसंरचना (v) कोई अन्य सम्बन्ध बिन्दु (किन्हीं तीन बिन्दुओं की व्याख्या अपेक्षित)</p> <p style="text-align: right;">भू. 78</p>	3x1=3
14	<p>पिछले तीन दशकों में भारत में पर्यटन उद्योग ने महत्वपूर्ण वृद्धि की है –</p> <p>(vi) देश में विदेशी पर्यटकों के आगमन से 21828 करोड़ विदेशी मुद्रा प्राप्त हुयी (vii) 150 लाख से अधिक व्यक्ति पर्यटन उद्योग से प्रत्यक्ष रूप से सम्बन्धित है (viii) प्रत्येक वर्ष भारत में 26 लाख से अधिक विदेशी पर्यटक आते हैं (ix) पर्यटन राष्ट्रीय एकता को प्रोत्साहित करता है, तथा स्थानीय हस्तकला की प्रश्रय देता है। (x) कोई अन्य सम्बन्ध बिन्दु (किन्हीं 3 बिन्दुओं की व्याख्या अपेक्षित)</p> <p style="text-align: right;">भू. 97-98</p>	3x1=3
15	<p>लोकतंत्र में सामाजिक विविधता को समायोजित किया जाता है :-</p> <p>(i) लोकतंत्र ऐसी व्यवस्था विकसित करता है जो विभिन्न जातीय समूहों की आकांक्षाओं के बीच सफलता पूर्वक सामंजस्य स्थापित करें (ii) वे आमतौर पर अपने अन्दर की प्रतिद्वन्द्वताओं को संभालने की प्रक्रिया विकसित कर लेती है। (iii) इससे इन टकराओं के विस्फोट या हिंसक रूप लेने का अंदेश कम हो जाता है। (iv) इसमें विभिन्न सामाजिक विभाजनों, वर्गों, संघर्षों को कम किया जा</p>	

	<p>सकता है।</p> <p>(v) कोई अन्य सम्बद्ध बिन्दु। (किन्ही तीन बिन्दुओं की व्याख्या अपेक्षित है)</p> <p>लोक 96</p>	3x1=3
16	<p>भारत में दुर्ग-बस्तर-चंद्रपुर लोह-अयस्क पेट्टी की विशेषताएं :</p> <p>यह क्षेत्र महाराष्ट्र एवं छत्तीसगढ़ राज्यों के अंतर्गत है।</p> <p>(ii) छत्तीसगढ़ के बस्तर जिले में बेलाडिला पहाड़ी श्रृंखलाओं में अति उत्तम कोटि का हेमेटाइट पाया जाता है।</p> <p>(iii) पर्वत की श्रृंखला में सर्वश्रेष्ठ कोटि के हेमेटाइट लोह अयस्क के 14 जमाव हैं।</p> <p>(iv) इसमें इस्पात बनाने में आवश्यक सर्वश्रेष्ठ भौतिक गुण विद्यमान हैं।</p> <p>(v) इन खदानों का लौह अयस्क विशाखापट्टनम पत्तन से जापान तथा दक्षिण कोरिया को निर्यात किया जाता है।</p> <p>(vi) कोई अन्य संबद्ध बिंदु। (किन्ही तीन बिंदुओं की व्याख्या अपेक्षित)</p> <p>भू. 56</p>	3x1=3
17	<p>लोक तांत्रिक से संबद्ध मूल्य जो सद्भावपूर्ण सामाजिक जीवन उपलब्ध करते हैं :-</p> <p>(i) समस्त लोगों में समानता।</p> <p>(ii) व्यक्तिगत स्वतंत्रता का सम्मान।</p> <p>(iii) लोकतंत्र अनेक सामाजिक विविधताओं में सामंजस्य स्थापित करता है। लोकतंत्र टकरावों के विस्फोटक या हिंसक रूप लेने के अंदेश को कम करनता है।</p> <p>(v) सामाजिक अंतर विभाजन और टकरावों को संभालने का गुण।</p> <p>(vi) कोई अन्य संबद्ध बिंदु। (किन्हीं तीन बिंदुओं का विश्लेषण अपेक्षित।)</p> <p>लोक. 96</p>	3x1=3
18	<p>सविनय अवज्ञा आंदोलन में व्यवसायी वर्गों की भूमिका :</p> <p>(i) व्यवसायी वर्गों ने ऐसी औपनिवेशिक नीतियों का विरोध किया जिनके कारण उनकी व्यावसायिक गतिविधियों में रुकावट आती थी।</p> <p>(ii) वे विदेशी वस्तुओं के आयात से सुरक्षा चाहते थे और रुपया-स्टर्लिंग विदेशी विनिमय अनुपात में बदलाव चाहते थे।</p> <p>(iii) व्यवसायिक हितों को संगठित करने के लिए उन्होंने 1920 में भारतीय औद्योगिक एवं व्यवसायिक कांग्रेस और 1927 में भारतीय वाणिज्य एवं उद्योग परिसंघ (फिक्की) का गठन किया।</p> <p>(iv) उन्होंने आंदोलन के लिए आर्थिक सहायता दी।</p> <p>(v) उन्होंने आयातित सामानों को खरीदने और बेचने से इंकार कर दिया।</p> <p>(vi) कोई अन्य संबद्ध बिंदु।</p>	3x1=3



	(किन्हीं तीन बिंदुओं की व्याख्या अपेक्षित।)	इति0 66	
19	<p>गाँधीजी ने असहयोग आंदोलन को वापस लेने का निर्णय किया :-</p> <p>(i) गाँधीजी को लगता था कि विभिन्न स्थानों पर आंदोलन हिंसक होता जा रहा है।</p> <p>(ii) सत्याग्रहियों को व्यापक प्रशिक्षण की जरूरत है।</p> <p>(iii) कांग्रेस के कुछ नेता इस तरह के जनसंघर्षों से थक चुके थे। वे चुनाव में हिस्सा लेना चाहते थे।</p> <p>(iv) चौरी चौरा घटना आंदोलन को वापस लेने का तात्कालिक कारण बनी।</p> <p>(v) कोई अन्य संबद्ध बिन्दु। (किन्हीं 3 बिन्दुओं का वर्णन अपेक्षित)</p>	इति0 62	3x1=3
20	<p>1830 के दशक में यूरोप में आई आर्थिक कठिनाइयाँ :-</p> <p>(i) यूरोप में जनसंख्या में जबरदस्त वृद्धि हुई।</p> <p>(ii) अधिकांश देशों में नौकरी ढूँढने वालों की तादाद उपलब्ध रोजगार से अधिक थी।</p> <p>(iii) ग्रामीण क्षेत्रों की अतिरिक्त आबादी शहर जाकर भीड़ से भरी गरीब बस्तियों में रहने लगी।</p> <p>(iv) नगरों के लघु उत्पादकों का अकसर इंग्लैंड से आयातित मशीन से बने सस्ते कपड़े से कड़ी प्रतिस्पर्धा का सामना करना पड़ रहा था।</p> <p>(v) यूरोप के उन इलाकों में जहाँ कुलीन वर्ग अभी भी सत्ता में था, कृषक, सामंती शुल्कों और जिम्मेदारियों के बोझ तले दबे थे।</p> <p>(vi) खाने पीने की चीजों के मूल्य बढ़ने या किसी वर्ष फसल के खराब होने पर शहर और गांवों में व्यापक गरीबी फैल जाती थी।</p> <p>(vii) कोई अन्य संबद्ध बिंदु (किन्हीं तीन बिंदुओं का वर्णन अपेक्षित)</p> <p style="text-align: center;">अथवा</p> <p>शिक्षा के क्षेत्र में फ्रांसीसियों को वियतनाम में आई समस्याएं :</p> <p>(i) वियतनाम के धनी और अमिजात्य तबके के लोग चीनी संस्कृति से गहरे तौर पर प्रभावित थे।</p> <p>(ii) फ्रांसीसियों की सत्ता को सुदृढ़ आधार प्रदान करने के लिए इस प्रभाव का समाप्त होना जरूरी था। फलस्वरूप पहले उन्होंने परंपरागत शिक्षा व्यवस्था को सुनियोजित ढंग से तहस-नहस किया और फिर वियतनामियों के लिए फ्रांसीसी किस्म के स्कूल खोल दिए।</p> <p>(iii) समाज के खाते-पीते तबके के लोग चीनी भाषा का इस्तेमाल करते थे जिसे हटाना जरूरी था।</p> <p>इस सवाल पर लोगों के बीच दो मत थे। कुछ नीति-निर्माता मानते थे कि फ्रांसीसी भाषा को ही शिक्षा का माध्यम बनाया जाए। जबकि दूसरे का विचार था</p>	इति. 15	3x1=3



	<p>कि अगर छोटी कक्षाओं में वियतनामी और बड़ी कक्षाओं में फ्रांसीसी भाषा में शिक्षा दी जाए तो ज्यादा बेहतर होगा।</p> <p>(iv) कोई अन्य संबद्ध बिन्दु (किन्ही 3 बिन्दुओं का वर्णन अपेक्षित)</p> <p style="text-align: right;">इति. पृ.स. 34</p>	
21	<p>वैश्वीकरण के सकारात्मक प्रभाव :</p> <p>(i) वैश्वीकरण और उत्पादकों-स्थानीय एवं विदेशी दोनों के बीच वृहतर प्रतिस्पर्धा से उपभोक्ताओं विशेषकर शहरी क्षेत्र में धनी वर्ग के उपभोक्ताओं को लाभ हुआ।</p> <p>(ii) उनके समक्ष पहले से अधिक विकल्प हैं और वे अब अनेक उत्पादों की उत्कृष्ट गुणवत्ता और कम कीमत से लाभान्वित हो रहे हैं।</p> <p>(iii) ये लोग पहले की तुलना में आज अपेक्षाकृत उच्चतर जीवन स्तर का आनंद ले रहे हैं।</p> <p>(iv) स्थानीय कंपनियां कच्चे माल की आपूर्ति से समृद्ध हो हुई हैं।</p> <p>(v) शीर्ष भारतीय कंपनियां बढी हुई प्रतिस्पर्धा से लाभान्वित हुई हैं।</p> <p>(vi) कुछ भारतीय कंपनियों ने विदेशी कंपनियों के साथ सफलतापूर्वक सहयोग कर लाभ अर्जित किया।</p> <p>(vii) विगत बीस वर्षों में बहुराष्ट्रीय कंपनियों ने भारत में अपने निवेश में वृद्धि की है। विशेषतः सेलफोन, मोटर गाड़ियां, इलेक्ट्रानिक उत्पाद, ठड़े पेय पदार्थ आदि।</p> <p>(viii) वैश्वीकरण ने कुछ बड़ी भारतीय कंपनियों को बहुराष्ट्रीय कंपनी के रूप में उभरने के योग्य बनाया। उदाहरण – टाटा मोटर्स, इंफोसिस, रैनबैक्सी एशियन पेंट्स आदि।</p> <p>(ix) कोई अन्य संबद्ध बिंदु (किन्हीं तीन बिंदुओं का विश्लेषण अपेक्षित।)</p> <p style="text-align: right;">अर्थ 66,67</p>	5x1=5
22	<p>स्वतंत्रता आंदोलन के दौरान सामूहिक अपनेपन की भावना को विकसित किया गया –</p> <p>(i) यह आंशिक रूप से संयुक्त संघर्षों के चलते पैदा हुई</p> <p>(ii) कई सांस्कृतिक प्रक्रियाएं जिनके द्वारा राष्ट्रवाद लोगों की कल्पना और दिलों दिमाग पर छा गया।</p> <p>(iii) इतिहास व साहित्य, लोककथाएं व गीत, चित्र व प्रतीक सभी ने राष्ट्रवाद को साकार करने में अपना योगदान दिया था।</p> <p>(iv) राष्ट्र की पहचान भारत माता की छवि का रूप लेने लगी।</p> <p>(v) बंगाल में स्वदेशी आंदोलन के दौरान बदेमातरम् गीत खूब गाया गया था।</p> <p>(vi) आदर्श और प्रतीकों ने लोगों को इकट्ठा करने में मदद की और उन्हें राष्ट्रवाद की भावना के लिए प्रेरित किया।</p> <p>(vii) लोकगीत के पुनर्जीवन के आन्दोलन ने भी भारत में राष्ट्रवाद के विचार का विकास किया।</p>	



	<p>(viii) भाटों और चरणों द्वारा गावां में गायी जाने वाली लोक कथाओं ने परम्पारगत सांस्कृति की सही तस्वीर प्रस्तुत की ।</p> <p>(ix) इतिहास के पुनर्विश्लेषण ने राष्ट्रवाद की भावना उत्पन्न की ।</p> <p>(x) भारत के राष्ट्रवादी इतिहास पाठकों को भारत की महानता व उपलब्धियों पर गर्व करने और ब्रिटिश शासन के तहत दुर्दशा से मुक्ति के लिए संघर्ष का मार्ग अपनाने का आवाहन किया ।</p> <p>(x) कोई अन्य सम्बद्ध बिन्दु । (किन्ही 5 बिन्दुओं की व्याख्या अपेक्षित)</p> <p style="text-align: right;">इति 64</p>	5x1=5
23	<p>किसी देश के अन्तर्राष्ट्रीय व्यापार की प्रगति उसके आर्थिक विकास का सूचक है :-</p> <p>(i) इसे एक देश के आर्थिक बैरोमीटर के रूप में लिया जाता है ।</p> <p>(i) संसाधनों की उपलब्धता क्षेत्रीय है, इसलिए कोई भी देश बिना अन्तर्राष्ट्रीय व्यापार के नहीं रह सकता ।</p> <p>(ii) एक अनुकूल व्यापार संतुलन आर्थिक विकास का द्योतक है ।</p> <p>(iii) अन्तर्राष्ट्रीय व्यापार सरप्लस सामनों का उन स्थानों पर आदान प्रदान करने में सहायता करता है जहां उनकी कमी है,</p> <p>(iv) वस्तुओं के आदान प्रदान की अपेक्षा सूचनाओं, ज्ञान तथा प्रौद्योगिकी का आदान प्रदान बढ़ा है</p> <p>कोई अन्य सम्बन्ध बिन्दु (किन्ही 5 बिन्दुओं की व्याख्या अपेक्षित)</p> <p style="text-align: right;">भू0 97</p>	1+4=5
24	<p>राष्ट्रवाद की पहली स्पष्ट अभिव्यक्ति 1789 में फ्रांसीसी क्रांति के साथ हुई:</p> <p>(i) फ्रांसीसी क्रांति से जो राजनीति और संवैधानिक बदलाव हुए उनसे प्रभुसत्ता राजतंत्र से निकलकर फ्रांसीसी नागरिकों के समूहों में हस्तांतरित हो गई ।</p> <p>(ii) फ्रांसीसी लोगों में पितृभूमि और नागरिक के साथ सामूहिक पहचान की भावना का पैदा होना ।</p> <p>(iii) नेशनल एसेंबली का निर्माण ।</p> <p>(iv) नई स्तुतियाँ रची गई, शपथ ली गई ।</p> <p>(v) समान केंद्रीय कानून शुरू किए गए ।</p> <p>(vi) आंतरिक आयात-निर्यात शुल्क समाप्त कर दिए गए और भार तथा नापने की एक समान व्यवस्था लागू की गई ।</p> <p>(vii) फ्रेंच राष्ट्र की साझा भाषा बन गई ।</p> <p>(viii) क्रांतिकारी युद्धों के शुरू होने के साथ ही फ्रांसीसी सेनाएं राष्ट्रवाद के विचार को विदेशों में ले जाने लगी ।</p> <p>(ix) कोई अन्य संबंध बिंदु (किन्हीं पांच बिंदुओं की परख अपेक्षित ।)</p> <p style="text-align: right;">इति 0 5</p> <p style="text-align: center;">अथवा</p>	5x1=5

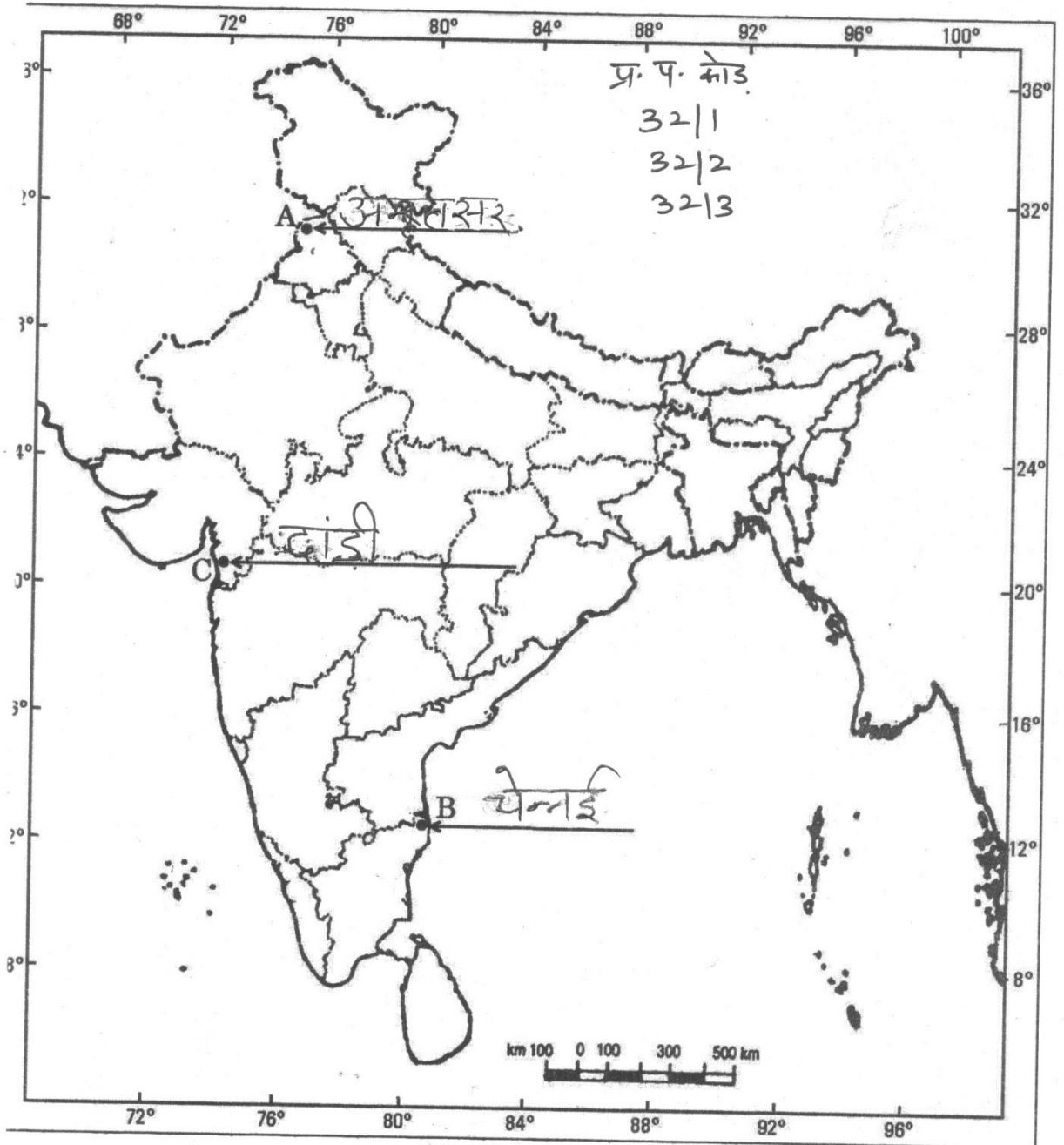
	<p>अमेरिका को वियतनाम के विरुद्ध युद्ध से हटने के लिए मजबूर करने वाले कारण :</p> <p>(i) युद्ध के लंबा खिंचते जाने से अमेरिका में भी लोग सरकार के खिलाफ बोलने लगे थे।</p> <p>(ii) यह साफ दिखाइ दे रहा था कि अमेरिका अपने लक्ष्य को हासिल करने में विफल रहा है।</p> <p>(iii) अमेरिका ने तो वियतनामियों के प्रतिरोध को कुचल पाया था और न ही अमेरिकी कार्यवाही के लिए वियतनामी जनता का समर्थन प्राप्त कर पाया।</p> <p>(iv) इस दौरान हजारों नौजवान अमेरिकी सिपाही अपनी जान गवां चुके थे। सरकारी नीति के खिलाफ व्यापक प्रतिक्रियाओं ने युद्ध खत्म करने के प्रयासों को और बल प्रदान किया।</p> <p>(vi) अमेरिकी मीडिया और फिल्मों ने युद्ध के पक्ष और विरोध दोनों में महत्वपूर्ण भूमिका निभाई।</p> <p>(vii) कोई अन्य संबंध बिंदू (किन्हीं पांच बिंदुओं की परख कीजिए)</p>	
25	<p>उदारीकरण का अर्थ – सरकार द्वारा अवरोधों अथवा प्रतिबंधों को हटाने की प्रक्रिया, उदारीकरण के नाम से जानी जाती है।</p> <p>उदारीकरण के प्रभाव :</p> <p>(i) प्रतिस्पर्धा से देश में उत्पादकों के प्रदर्शन में सुधार।</p> <p>(ii) विदेशी व्यापार एवं विदेशी निवेश पर से अवरोधों को काफी हद तक हटा दिया गया।</p> <p>(iii) विदेशी कंपनियां यहां अपने कार्यालय एवं कारखाने खोलने लगी ताकि उत्पादन में वृद्धि हो सके।</p> <p>(iv) व्यापार के उदारीकरण से व्यावसायियों को मुक्त रूप से निर्णय लेने की अनुमति मिली।</p> <p>(v) प्रतिस्पर्धा से देश में उत्पादकों के प्रदर्शन में सुधार।</p> <p>(vi) कोई अन्य संबंध बिंदु। (किन्हीं चार बिंदुओं का विश्लेषण अपेक्षित।</p> <p style="text-align: right;">अर्थ 64</p>	1+4=5
26	<p>राजनीतिक दलों के सुधार के लिए प्रभावी उपाय:-</p> <p>(i) राजनीतिक दलों के आन्तरिक काम काज को व्यवस्थित करने के लिए कानून बनाये जाने चाहिए।</p> <p>(ii) सभी दल अपने सदस्यों की सूची रखें, अपने संविधानका पालन करें। यह अनिवार्य बनाया जाना चाहिए।</p> <p>(iii) राजनीतिक दल महिलाओं को एक खास न्यूनतम अनुपात में लगभग एक</p>	

	<p>तिहाई टिकट अवश्य दें।</p> <p>(iv) चुनाव का खर्च सरकार उठाये, यह मदद पेट्रोल, कागज, फोन आदि के रूप में भी हो सकती है।</p> <p>(v) यह अनिवार्य किया जाए कि राजनीतिक दल अपने संगठनात्मक चुनाव कराएँ</p> <p>(vi) लोग राजनीतिक दलों पर प्रचार, अर्जी और विरोध के द्वारा दबाव डालें।</p> <p>(vii) दलों को धन और अपराधियों का प्रभाव कम करना चाहिए।</p> <p>(viii) दलों द्वारा चुनाव लड़ने के लिए ऐसे व्यक्तियों का चयन करना चाहिए जिनका रिकार्ड अच्छा है।</p> <p>(ix) कोई अन्य सम्बद्ध बिन्दु (किन्ही 5 सुझावों का वर्णन अपेक्षित)</p> <p style="text-align: right;">लोक0 86</p>	5x1=5
27	<p>25 लोकतंत्र की विशेषताएँ :</p> <p>(i) नागरिकों में समानता को बढ़ावा देना है।</p> <p>(ii) व्यक्ति की गरिमा को बढ़ाता है।</p> <p>(iii) इससे फैसलों में बेहतरी आती है।</p> <p>(iv) टकरावों को टालने संभालने का तरीका देता है।</p> <p>(v) गलतियों को सुधारने की गुंजाइश होती है।</p> <p>(vi) कोई अन्य संबद्ध बिंदु। (किन्हीं पांच बिंदुओं का विश्लेषण अपेक्षित।)</p> <p style="text-align: right;">लोक0 90</p>	5x1=5
28	<p>भारतीय अर्थव्यवस्था में रसायन उद्योगों की भूमिका :</p> <p>(i) इसकी भागेदारी सकल घरेलू उत्पाद में लगभग 3 प्रतिशत है।</p> <p>(ii) यह उद्योग एशिया का तीसरा तथा विश्व में आकार की दृष्टि से 12वें स्थान पर है।</p> <p>(iii) इसमें लघु तथा वृहत दोनों प्रकार की विनिर्माण इकाइयाँ सम्मिलित हैं।</p> <p>(iv) अकार्बनिक और कार्बनिक दोनों क्षेत्रों में तीव्र वृद्धि दर्ज की गई है।</p> <p>(v) कार्बनिक रसायनों में पेट्रोरसायन शामिल है जो क्रत्रिम वस्त्र कृत्रिम रबर प्लास्टिक, रंजक पदार्थ, दवाइयाँ, औषध रसायनों के बनाने में प्रयोग किए जाते हैं।</p> <p>(vi) अकार्बनिक रसायनों में सलफ्यूरिक अम्ल, उर्वरक, कृत्रिम वस्त्र, प्लास्टिक गोंद, रंग रोगन आदि सम्मिलित हैं।</p> <p>(vii) रसायन उद्योग अपने आप में एक बड़ा उपभोक्ता भी है।</p> <p>(viii) कोई अन्य संबद्ध बिंदु। (किन्हीं पांच बिंदुओं का विश्लेषण अपेक्षित।)</p> <p style="text-align: right;">भू. 79</p>	5x1=5

29	भरे हुए संलग्न मानचित्र को देखिए। केवल दृष्टिबाधित परीक्षार्थियों के लिए 29.1 अमृतसर 29.2 बिहार 29.3 दांडी	3x1=3
30	भरे हुए संलग्न मानचित्र को देखिए – केवल दृष्टिबाधित परीक्षार्थियों के लिए 30.1 उत्तर प्रदेश 30.2 तमिलनाडू 30.3 छत्तीसगढ़	3x1=3



भारत का रेखा-मानचित्र (राजनीतिक)
Outline Map of India (Political)



प्र. सं. 30 के लिए

For question no. 30

भारत का रेखा-मानचित्र (राजनीतिक)
Outline Map of India (Political)

